



MUNICÍPIO DA ESTÂNCIA BALNEÁRIA DE PRAIA GRANDE

Estado de São Paulo
SEDUC - Secretaria de Educação

SEMANAS 5 E 6

SALA DE AULA



Disciplina: Matemática

2º ano do Ensino Fundamental

1- OBSERVE O QUADRO E RESPONDA EM SEU CADERNO:

0	1	2			5				9
10	11			14				18	
20	21	22			25				29
30		32					37		
40	41			44				48	
50		52				56			

2- VEJA O CALENDÁRIO E RESPONDA O QUE SE PEDE EM SEU CADERNO:

FEVEREIRO

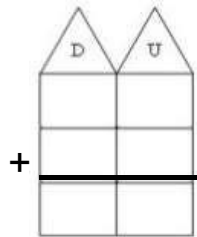
DOM	SEG	TER	QUA	QUI	SEX	SAB
	1	2	3	4	5	6
7	8	9	10	11	12	13
14	15	16	17	18	19	20
21	22	23	24	25	26	27
28						

- A) QUAL MÊS ESTE CALENDÁRIO CORRESPONDE? _____
- B) QUAL É O PRIMEIRO DIA DA SEMANA? _____
- C) EM QUAL DIA DA SEMANA CAI 11 DE FEVEREIRO? _____
- D) QUANTOS SÁBADOS HÁ NESTE CALENDÁRIO? _____

3- VAMOS CALCULAR:

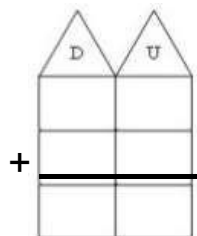
EM SEU CADERNO, RESPONDA:

A) MARIA GANHOU 15 BALAS DO SEU TIO E 14 DA SUA TIA. QUANTAS BALAS ELA GANHOU NO TOTAL?



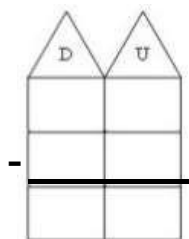
R: MARINA GANHOU _____ BALAS.

B) JOÃO TEM UM ÁLBUM COM 20 FIGURINHAS NA PRIMEIRA PÁGINA E 11 NA SEGUNDA PÁGINA. QUANTAS FIGURINHAS HÁ NO ÁLBUM DE JOÃO?



R: HÁ NO ÁLBUM DE JOÃO _____ FIGURINHAS.

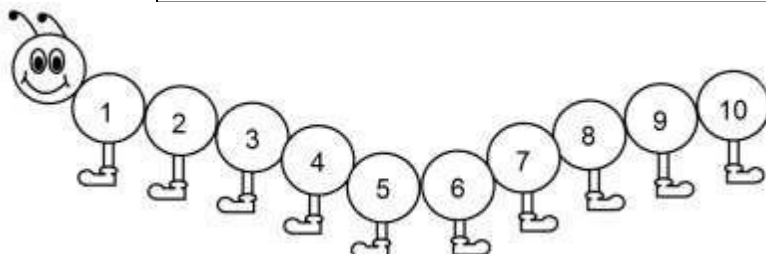
C) PAULO GANHOU DE PRESENTE DE ANIVERSARIO 35 BOLINHAS DE GUDE, PARA NÃO DEIXAR SEU IRMÃO MAIS NOVO TRISTE, PAULO DEU 15 BOLINHAS PARA ELE. COM QUANTAS BOLINHAS PAULO FICOU?



R: PAULO FICOU COM _____ BOLINHAS.

4- COLOQUE EM SEU CADERNO OS NUMERAIS EM ORDEM CRESCENTE CONFORME O MODELO:

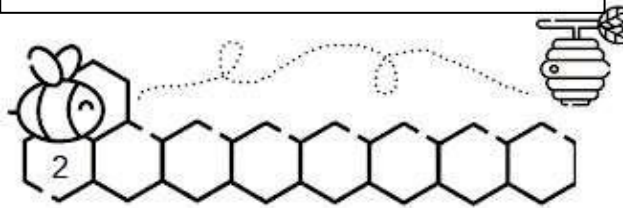
10 - 6 - 5 - 2 - 8 - 1 - 4 - 3 - 7 - 9



ORDEM CRESCENTE:
DO NÚMERO MENOR
PARA O MAIOR.

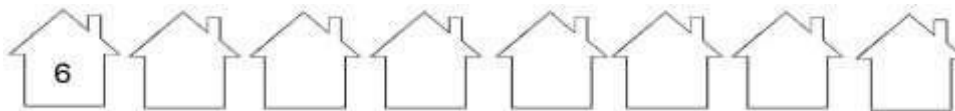
A)

53 - 20 - 6 - 25 - 2 - 5 - 39 - 12



B)

21 - 44 - 16 - 79 - 6 - 10 - 30 - 8

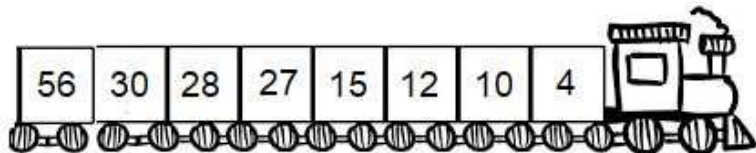


5- COLOQUE EM SEU CADERNO OS NUMERAIS EM ORDEM DECRESCENTE CONFORME O MODELO:

**ORDEM
DECRESCENTE:**


**DO NÚMERO MAIOR
PARA O MENOR.**

12 - 10 - 4 - 27 - 15 - 56 - 28 - 30



A)

59 - 27 - 34 - 30 - 18 - 58 - 42 - 51

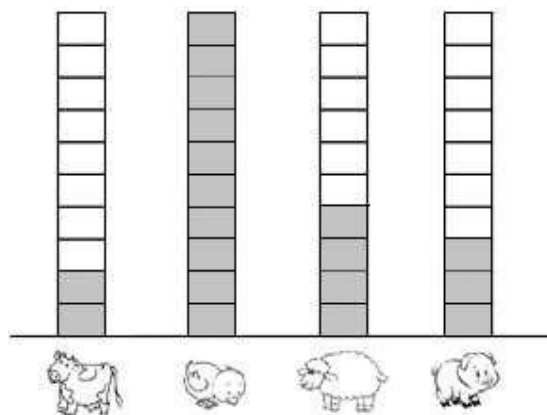


B)

61 - 44 - 13 - 49 - 7 - 11 - 35 - 29



6- NA FAZENDA DE LILI EXISTEM VÁRIOS ANIMAIS. OBSERVE O GRÁFICO E RESPONDA:





A) QUAL ANIMAL TEM EM MAIOR QUANTIDADE? _____

B) QUANTOS PORCOS TÊM NA FAZENDA DE LILI? _____


C) SE JUNTARMOS A QUANTIDADE DE VACAS E OVELHAS, QUANTOS ANIMAIS HAVERIA NA FAZENDA? _____

D) QUANTOS ANIMAIS EXISTEM NA FAZENDA NO TOTAL? _____

7- COMPLETE AS SEQUÊNCIAS DOS DESENHOS. UTILIZE SEU CADERNO PARA REGISTRÁ-LAS:



8- OBSERVE A IMAGEM E RESPONDA O QUE SE PEDE EM SEU CADERNO:



A) QUAL CRIANÇA TEM MAIS DINHEIRO? _____

B) QUAL TEM MENOS? _____

C) QUANTO PAULA TEM? _____

E) QUANTO SÉRGIO E HUGO TÊM JUNTOS? _____



MUNICÍPIO DA ESTÂNCIA BALNEÁRIA DE PRAIA GRANDE

Estado de São Paulo
SEDUC - Secretaria de Educação

SEMANAS 5 e 6 PONTE DO SABER



2º ano do Ensino Fundamental

VAMOS PENSAR!

1- MÁRCIA, PAULO, LUÍS, PEDRO E KÁTIA JOGAM TAPÃO COM AS FIGURINHAS. VEJA QUANTAS FIGURINHAS CADA UM GANHOU E RESPONDA EM SEU CADERNO O QUE SE PEDE:

CRIANÇAS	FIGURINHAS
MÁRCIA	6
PAULO	2
LUÍS	5
PEDRO	1
KÁTIA	3



- A) QUANTAS FIGURINHAS AS MENINAS GANHARAM? _____
- B) QUANTAS FIGURINHAS OS MENINOS GANHARAM? _____
- C) QUEM VENCEU, AS MENINAS OU OS MENINOS? _____


FORMAS GEOMÉTRICAS

2- LEIA AS DESCRIÇÕES ABAIXO E DESENHE AS FORMAS GEOMÉTRICAS EM SEU CADERNO:

- A) EU SOU O CÍRCULO
SOU IGUAL A LUA
SOU O MAIS BONITO
LÁ DA MINHA RUA.




- B) EU SOU O QUADRADO
BONITO DEMAIS,
TENHO QUATRO LADOS
QUE SÃO TODOS IGUAIS.



- C) **EU SOU O TRIÂNGULO
TENHO TRÊS BIQUINHOS
PARA FAZER CHAPÉUS
PARA OS PALHACINHOS.**



- D) **EU SOU O RETÂNGULO
CRESCI MAIS DE UM LADO
PARA FICAR DIFERENTE
DO SENHOR QUADRADO.**



3- QUAIS NÚMEROS ESTÃO ANTES E DEPOIS DOS NÚMEROS ABAIXO? RESPONDA EM SEU CADERNO:

A) $\square \leftarrow 53 \rightarrow \square$

C) $\square \leftarrow 24 \rightarrow \square$

E) $\square \leftarrow 66 \rightarrow \square$

B) $\square \leftarrow 11 \rightarrow \square$

D) $\square \leftarrow 99 \rightarrow \square$

F) $\square \leftarrow 75 \rightarrow \square$

4- CALCULE EM SEU CADERNO:

A)

DEZENA	UNIDADE
1	4
+ 1	3
<hr/>	

B)

DEZENA	UNIDADE
5	0
+ 2	4
<hr/>	

C)

DEZENA	UNIDADE
5	0
- 3	0
<hr/>	

D)

DEZENA	UNIDADE
2	4
- 1	2
<hr/>	

5- ESCREVA EM SEU CADERNO OS NUMERAIS CORRESPONDENTES:

- A) VINTE E SEIS - _____
 B) NOVENTA E DOIS - _____
 C) TRINTA E NOVE - _____
 D) SESSENTA E SETE - _____